




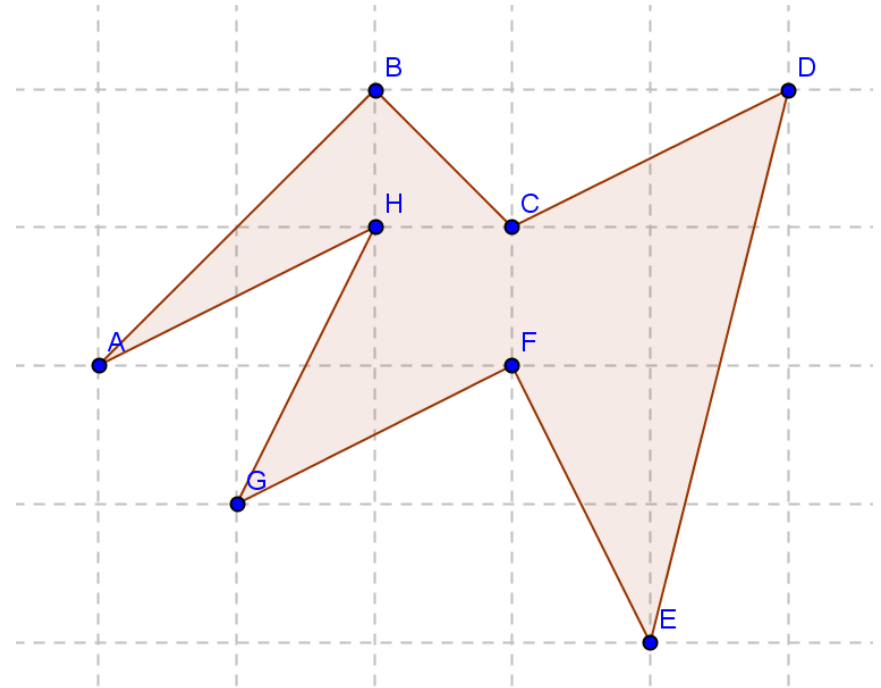
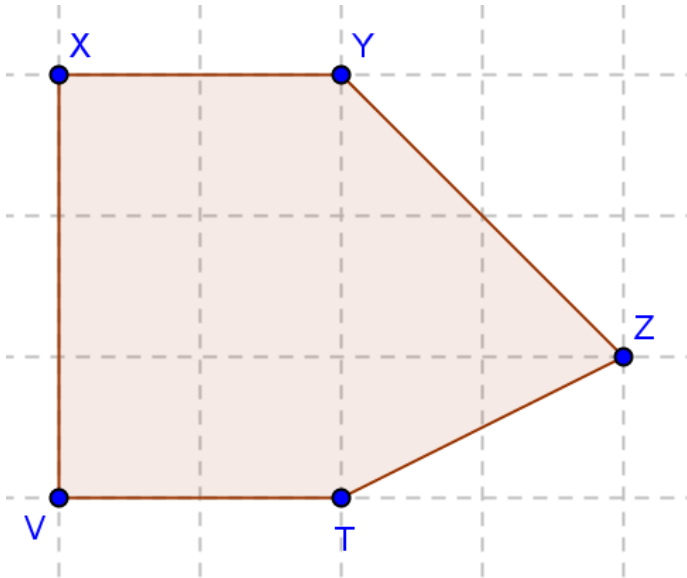
Daudzstūri rūtiņu plaknē

LU FMF docente Dace Kūma

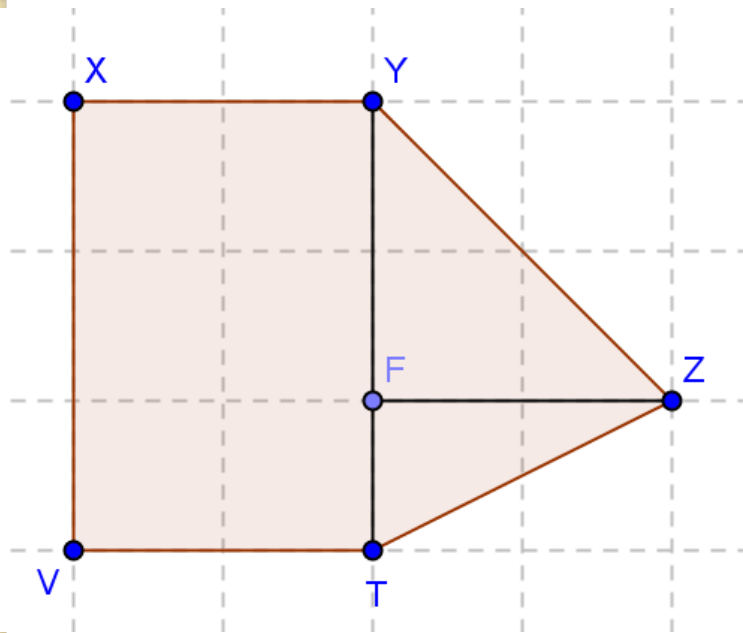


Dots kvadrātisks režģis.
Apskatām daudzstūrus, kuru
virsošnes atrodas rūtiņu virsošnēs
(režģa punktos).

Aprēķināt doto daudzstūru laukumus.

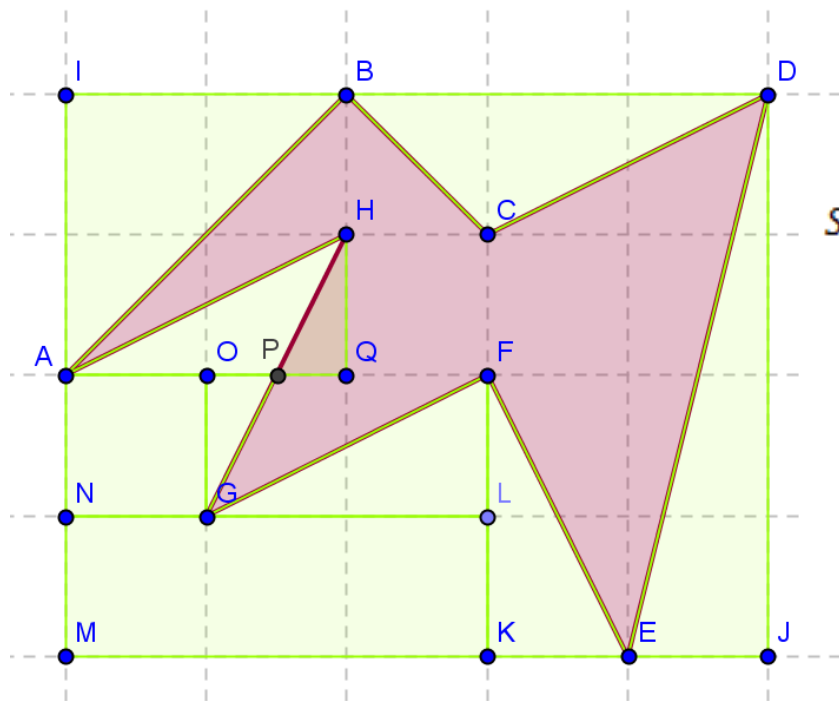


Atbilde:



$$\begin{aligned} S_{XYZTV} &= S_{XYTV} + S_{YZF} + S_{FZT} = \\ &= 6 + (2 \cdot 2):2 + (2 \cdot 1):2 = 9 \end{aligned}$$

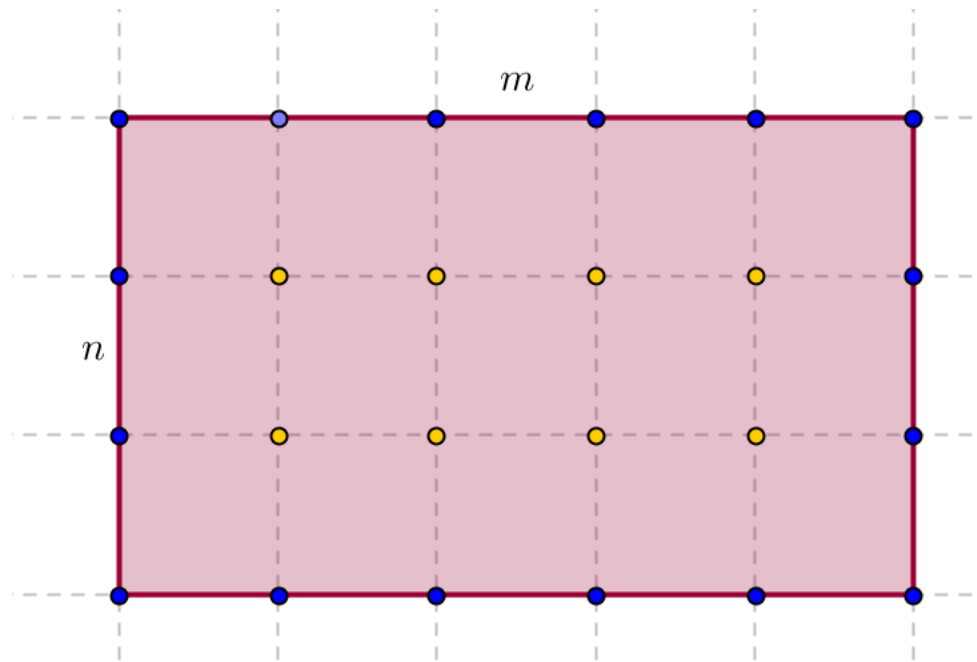
Atbilde:



$$S_{ABCDEFGH} = S_{DJMI} - (S_{AIB} + S_{BCD} + S_{DEJ} + S_{EFK} + S_{NMKL} + S_{FLG} + S_{AOGN} + S_{AHGO}) = 20 - (2 + 1,5 + 2 + 1 + 3 + 1 + 1 + 1) = 7,5$$

$$S_{AHGO} = S_{AHQ} \text{ jo } \Delta OPG = \Delta QPM$$

Taisnstūra laukums



$$S = m \cdot n = (m - 1)(n - 1) + \frac{2(m + n)}{2} - 1 = i + \frac{r}{2} - 1$$

Pīka formula

Ja daudzstūra visas virsotnes atrodas kvadrātiska režģa punktos, uz tā kontūra atrodas r režģa punkti (ieskaitot virsotnes), bet iekšpusē i režģa punkti, tad tā laukums ir

$$S = i + \frac{r}{2} - 1$$

Pierādījums

- 1. Taisnstūrim ir spēkā.

Pierādījums

- 2. Taisnleņķa trijstūrim

i iekšējie režģa punkti

r režģa punkti uz kontūra

d režģa punkti uz hipotenūzas

- Izveido taisnstūri

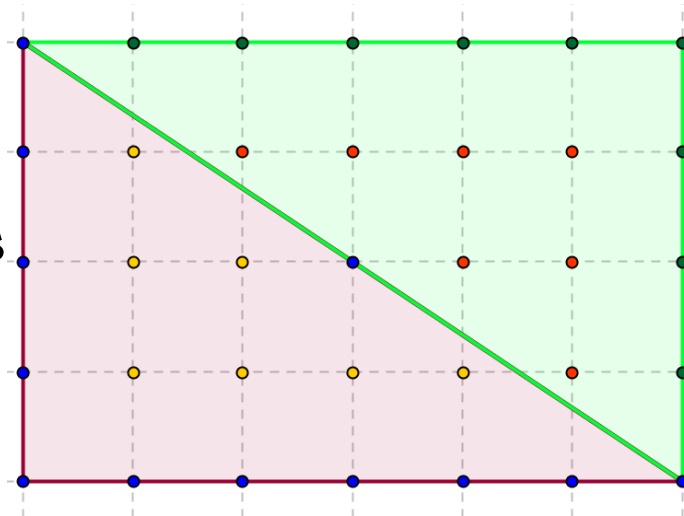
$$i_T = 2i + d$$

$$r_T = 2r - 2d - 2$$

- Pīka f. taisnstūrim:

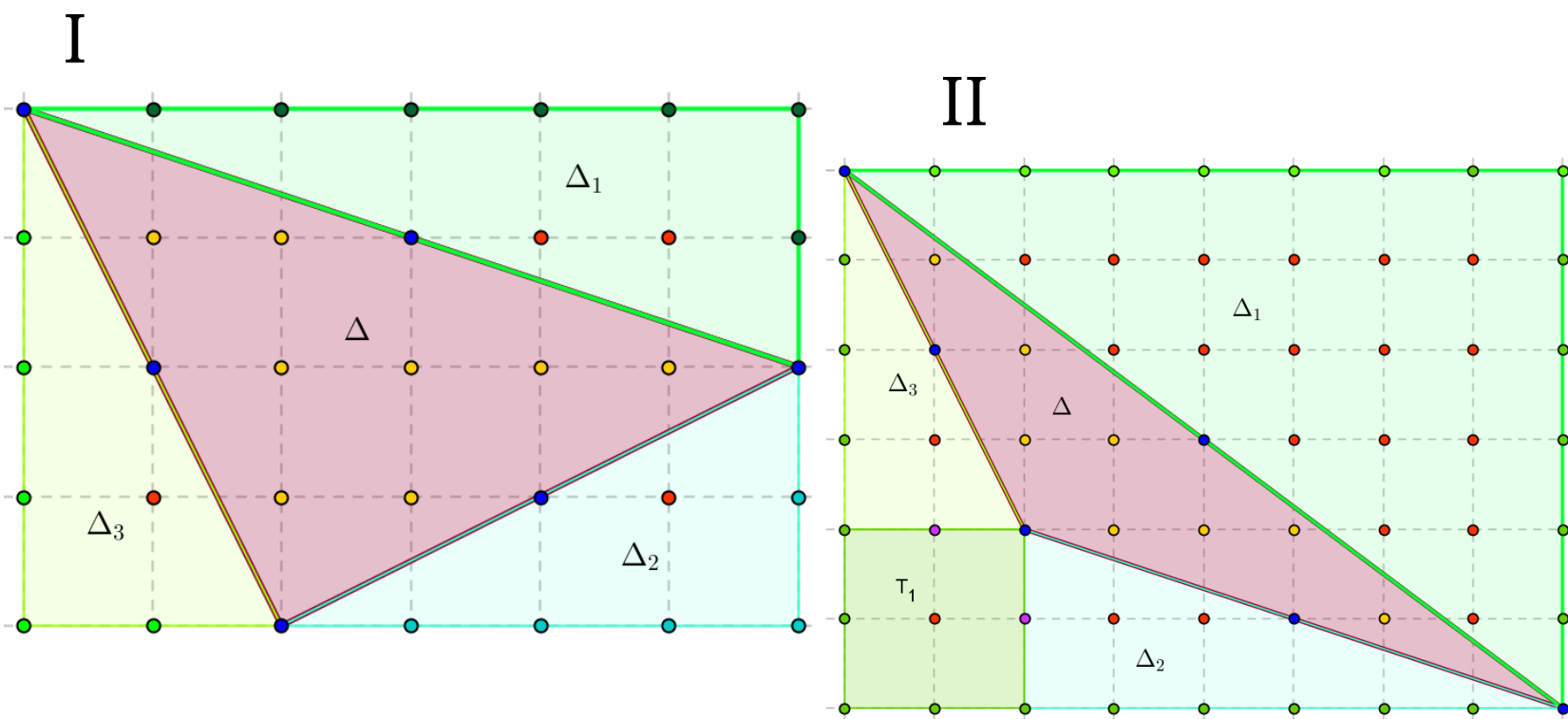
$$S_T = (2i + d) + (2r - 2d - 2) : 2 - 1 = 2i + r - 2$$

$$S_{\Delta} = S_T : 2 = (2i + r - 2) : 2 = i + \frac{1}{2}r - 1$$



Pierādījums

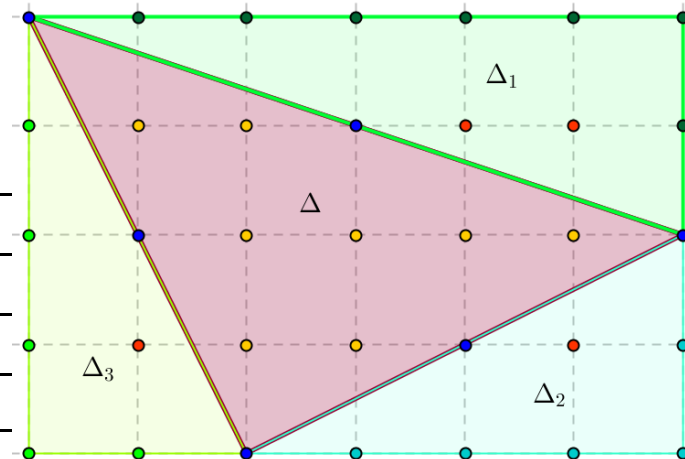
- 3. Patvaļīgam trijstūrim
Apvelk taisnstūri



Pierādījums

• 3. I gadījums

	<i>Iekšējie</i>	<i>Kontūra</i>
Δ	i	r
Δ_1	i_1	r_1
Δ_2	i_2	r_2
Δ_3	i_3	r_3
T	$i_T = i + i_1 + i_2 + i_3 + r - 3$	$r_T = r_1 + r_2 + r_3 - r$



$$S_T = S_{\Delta} + S_{\Delta_1} + S_{\Delta_2} + S_{\Delta_3}$$

$$(i + i_1 + i_2 + i_3 + r - 3) + \frac{r_1 + r_2 + r_3 - r}{2} - 1 =$$

$$= S_{\Delta} + \left(i_1 + \frac{r_1}{2} - 1\right) + \left(i_2 + \frac{r_2}{2} - 1\right) + \left(i_3 + \frac{r_3}{2} - 1\right)$$

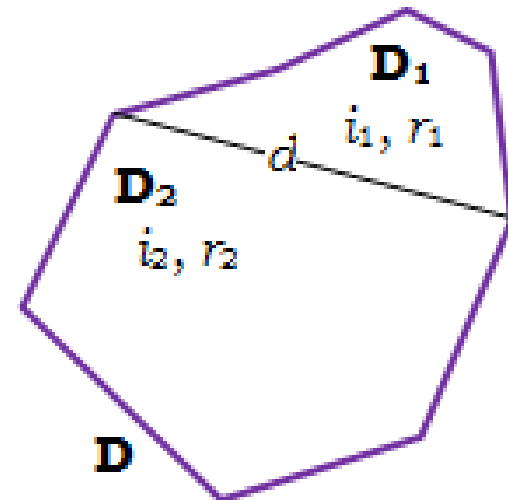
$$S_{\Delta} = i + \frac{r}{2} - 1$$

Pierādījums

- 4. Patvaļīgam daudzstūrim

Ja, daudzstūri D diagonāle d sadala divos daudzstūros D_1 un D_2 un tiem Pīka formula ir patiesa, tad

$$\begin{aligned} S_D &= S_{D_1} + S_{D_2} = \left(i_1 + \frac{r_1}{2} - 1\right) + \left(i_2 + \frac{r_2}{2} - 1\right) = \\ &= i_1 + i_2 + d - \frac{2d}{2} + \frac{r_1}{2} + \frac{r_2}{2} - \frac{2}{2} - 1 = \\ &= (i_1 + i_2 + d) + \frac{r_1 + r_2 - 2d - 2}{2} - 1 = i + \frac{r}{2} - 1 \end{aligned}$$

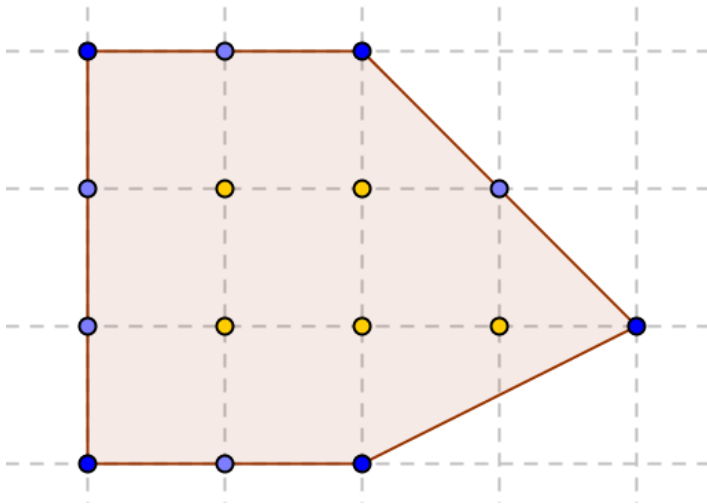


$$\begin{aligned} i &= i_1 + i_2 + d \\ r &= r_1 + r_2 - 2d - 2 \end{aligned}$$

Pierādījums

- Tā kā katru daudzstūri ar diagonālēm var sadalīt trijstūros, un trijstūrim Pīka formula ir patiesa, tad Pīka formula ir patiesa jebkuram daudzstūrim, kura virsotnes atrodas režģa punktos.

Pīka formulas lietojumi

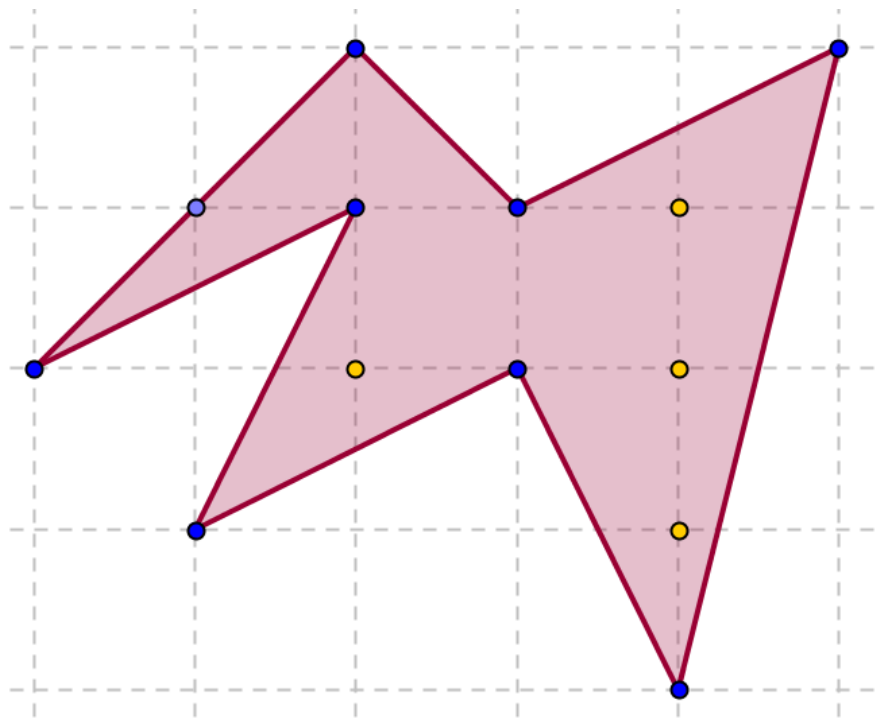


$$i=5$$

$$r=10$$

$$S=5+10:2-1=9$$

Pīka formulas lietojumi



$$i=4$$

$$r=9$$

$$S=4+9:2-1=7,5$$

Izliekti daudzstūri ar vismazāko laukumu

- $n = 3$

$$i \geq 0, r \geq 3$$

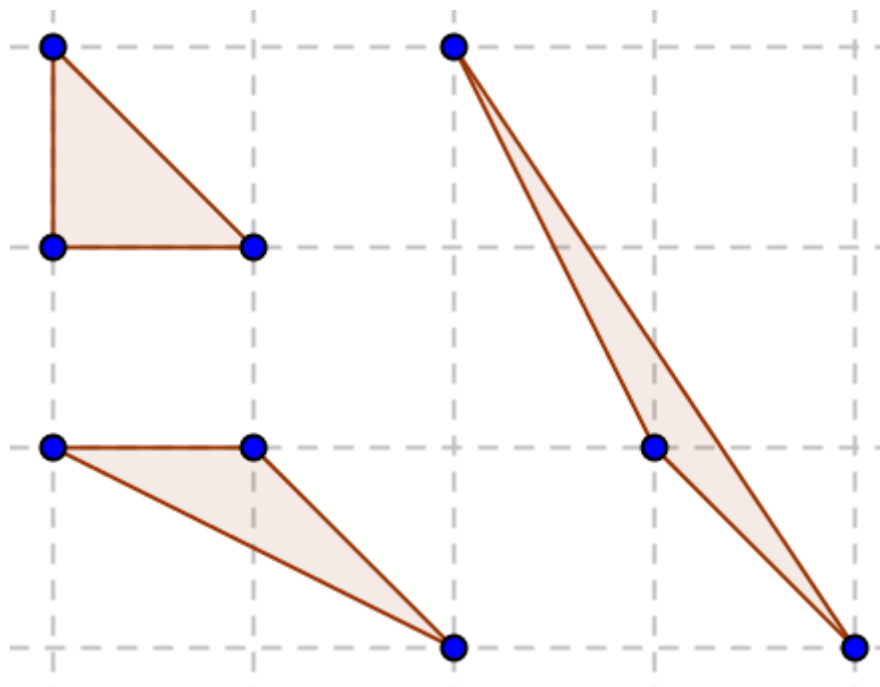
$$\Rightarrow S \geq 0 + 3 : 2 - 1 = 0,5$$

Izliekti daudzstūri ar vismazāko laukumu

- $n = 3$

$$i \geq 0, r \geq 3$$

$$\Rightarrow S \geq 0 + 3:2 - 1 = 0,5$$



Izliekti daudzstūri ar vismazāko laukumu

- $n = 4$

$$i \geq 0, r \geq 4$$

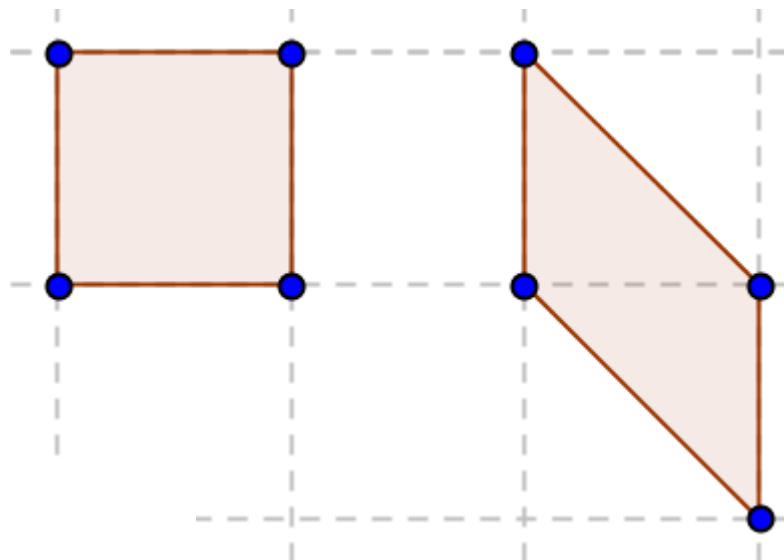
$$\Rightarrow S \geq 0 + 4 : 2 - 1 = 1$$

Izliekti daudzstūri ar vismazāko laukumu

- $n = 4$

$$i \geq 0, r \geq 4$$

$$\Rightarrow S \geq 0 + 4 : 2 - 1 = 1$$



Izliekti daudzstūri ar vismazāko laukumu

- $n = 5$

$$i \geq 0, r \geq 5$$

$$\Rightarrow S \geq 0 + 5 : 2 - 1 = 1,5$$

Izliekti daudzstūri ar vismazāko laukumu

- $n = 5$

$$~~i \geq 0, r \geq 5~~$$

$$\Rightarrow S \geq \underline{0+5:2-1=1,5}$$

Vismaz vienas diagonāles viduspunkts ir režģa punkts, tātad

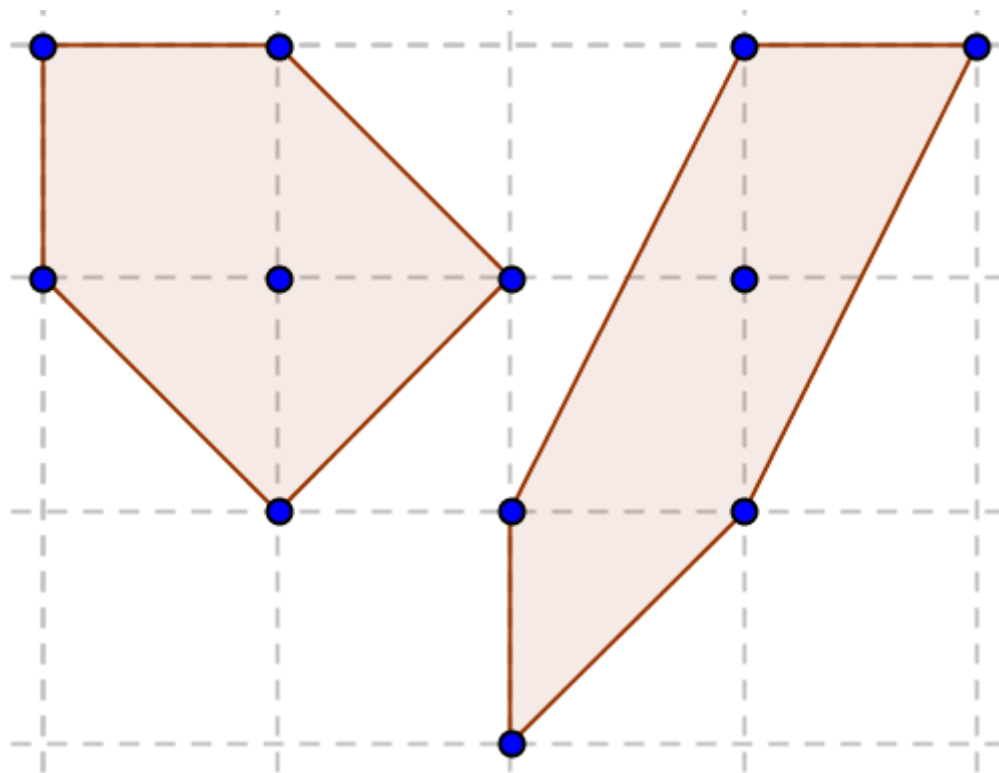
$$**i \geq 1** \text{ un } **S \geq 1+5:2-1=2,5**$$

Izliekti daudzstūri ar vismazāko laukumu

- $n = 5$

$$i \geq 1, r \geq 5$$

$$\Rightarrow S \geq 1 + 5:2 - 1 = 2,5$$



Izliekti daudzstūri ar vismazāko laukumu

- $n = 6$

$$i \geq 1, r \geq 6$$

$$\Rightarrow S \geq 1 + 6:2 - 1 = 3$$

Izliekti daudzstūri ar vismazāko laukumu

- $n = 6$

$$i \geq 1, r \geq 6$$

$$\Rightarrow S \geq 1 + 6:2 - 1 = 3$$

